

INFRASTRUKTÚRA: EGYSZERŰSÍTETT FORGALMI TÁVKÖZLŐ-, ERŐSÁRAMÚ-, BIZTOSÍTÓBERENDEZÉS SZAKSZOLGÁLAT (F.1-F.2. SZÁMÚ JELZÉSI ÉS FORGALMI UTASÍTÁS A KÖZÚTI VASUTAK SZÁMÁRA UTASÍTÁS ÉS KAPCSOLÓDÓ SZABÁLYOZÁSOK) 2016

**Jelzési ismeretek (F.1)**

Mit értünk megcsúszási pályaszakasz alatt?

Mit értünk oldalvédelem alatt?

Mit értünk a ráfutási szakasz fogalma alatt?

Hol helyezkedik el a ráfutási szakasz?

Mit értünk a váltó védőállása fogalom alatt?

Hogyan kell a jelzőket elhelyezni?

Mi a jelentése az alábbi jelzőnek?

Mi a jelentése az alábbi jelzéseknek?



Mi a jelentése az alábbi jelzéseknek?



Mi a jelentése az alábbi jelzéseknek?



Válassza ki, hogy melyik esetben kell kézi váltóállítást alkalmazni!

Válassza ki, hogy melyik esetben kell kézi váltóállítást alkalmazni!

Mi a jelentése az alábbi jelzéseknek?



Mi a jelentése az alábbi jelzőnek?



Válassza ki az alábbiak közül a helyes állítást!

Mi a jelentése az ábrán látható fehér fényt adó jelzőnek?



Mi a jelentése, ha a megállóhely jelzőtábla alatt az ábrán látható kiegészítő tábla látható?



Meg kell-e jelölni Mechanikus csúcssínrögztő szerkezettel vagy eszközzel felszerelt váltó jelzőtáblával a biztosított vágányutas biztosítási körzetben lévő, mechanikus csúcssínrögztő szerkezettel vagy eszközzel felszerelt váltókat?

Mi a jelentése az alábbi jelzőtáblának?



Mi a jelentése az alábbi jelzőtáblának?



Mi a jelentése az alábbi jelzőtáblának?



Válassza ki a Villamosszerelvény állj! jelzőtábla jelentését!

Mi a jelentése az alábbi jelzőtáblának?



Válassza ki a Váltó ráfutási szakasz kezdete jelzőtáblára vonatkozó helyes állítást!

Amennyiben a jelzőtábla és a következő váltó csúcspontja között a váltójelzőn a váltó reteszelését jelző visszajelzés nem jelenik meg (a ráfutási szakasz pályaszakaszában az aláváltás gátló járműérzékelő nem működik), akkor....

Válassza ki az Érvénytelen főjelzőre vonatkozó helyes állítást!

Mi a jelentése, ha a váltóhoz tartozó, a járművezető által távvezérléssel történő váltóállítás helyére figyelmeztető jelzőn érvénytelenítő jelzést helyeztek el?

Válassza ki az Időszakosan érvénytelenített főjelzőre vonatkozó helyes állítást!

Mi a jelentése a kézzel adott Lassan jelzésnek?

Mely jelzőeszközökkel adható hallható módon a Lassan jelzés?

Mely jelzőeszközökkel adható hallható módon a Megállj jelzés?

Válassza ki az Indulásjelzésre vonatkozó helyes állítást!

Sorrendben melyik jelzés következik az ábrán látható holdfényjelzőn?



Mi az ábrán látható holdfényjelző jelzésének a jelentése?



Sorrendben melyik jelzés következik az ábrán látható holdfényjelzőn?



Mi az ábrán látható holdfényjelző jelzésének a jelentése?



Sorrendben melyik jelzés következik az ábrán látható holdfényjelzőn?




Mi az ábrán látható holdfényjelző jelzésének a jelentése?



Mi a jelentése az alábbi jelzőtáblának?



Válassza ki az alábbi jelzőtáblára vonatkozó helyes állítást!



Válassza ki a Megállj! jelzőre vonatkozó helyes állítást!

Mi az ábrán látható jelző jelzésének a jelentése?



Mi az ábrán látható jelző jelzésének a jelentése?



Mi az ábrán látható jelző jelzésének a jelentése?



Mi az ábrán látható jelző jelzésének a jelentése?



Mi az ábrán látható váltójelző jelzésének a jelentése?



Mit jelent az ábrán látható váltójelzőn lévő vörös kör alakú fényjelzés?



Mi a jelentése az alábbi jelzőnek?



Mi a jelzékép jelentése?



Az ábrán látható jelzőt egy főjelző után helyezték el. Mit jelent ebben az esetben az ábrán látható jelző jelzése?



Válassza ki a Villamosszerelvény állj! jelzőtáblára vonatkozó helyes állítást!

Válassza ki a Váltó ráfutási szakasz kezdete jelzőtáblára vonatkozó helyes állítást!

Válassza ki a Váltó ráfutási szakasz kezdete jelzőtáblára vonatkozó helyes állítást!

Válassza ki a Technikai figyelmeztető jelzőtáblára vonatkozó helyes állítást!

Milyen jelző látható az ábrán?





Mit jelez az ábrán látható, a felsővezetéket tartó keresztsodronyon elhelyezett kör alakú, kék színű fényjelzés?



Mi a jelentése az ábrán látható jelzésnek?



Mi az ábrán látható jelző jelzésének a jelentése?



Mi az ábrán látható jelző jelzésének a jelentése?



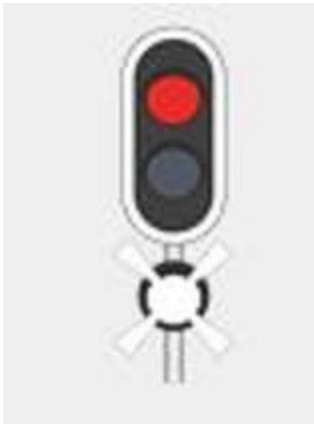
Mi az ábrán látható jelző jelzésének a jelentése?



Mi az ábrán látható jelző jelzésének a jelentése?



Hogyan kell értelmezni az ábrán látható jelző jelzését?



Mi a jelzési kép jelentése?



Mi az ábrán látható jelző jelzésének a jelentése?



Sorrendben melyik jelzés következik az ábrán látható holdfényjelzőn?



Az ábrán látható jelzőt egy főjelző után helyezték el. Mit jelent ebben az esetben az ábrán látható jelző jelzése?



Az ábrán látható jelzőt egy útkereszteződés előtt helyezték el, ahol az egyéb közúti járművek forgalmát két lámpából álló fényjelző készülék (közúti fedezőjelző) szabályozza. Mit jelent ebben az esetben az ábrán látható jelző jelzése?



Mi a jelentése az ábrán látható kézi állítású, ellensúlyos váltóhoz tartozó váltójelző, illetve állítókészülék (súlykörte) jelzésének?




Mi a jelentése az ábrán látható kézi állítású, ellensúlyos váltóhoz tartozó váltójelző, illetve állítókészülék (súlykörte) jelzésének?



Mi a jelentése az ábrán látható jelzésnek, amit a váltónál helyeztek el?



Felhasználható-e az ábrán látható jelzéssel megjelölt váltó?




Mi a jelentése az ábrán látható jelzésnek, amit a váltónál helyeztek el?



Milyen irányból közlekedhet jármű az ábrán látható jelzéssel megjelölt váltón?



Mi a neve és jelentése az ábrán látható jelzésnek?



Mi a jelentése az ábrán látható jelzésnek?



Mi a jelentése az ábrán látható jelzésnek?



Mi az ábrán látható jelzés neve és jelentése, ha nappal a sárga színű jelzőzászlót függőleges irányban fel-le mozgatják?



Mi az ábrán látható jelzés neve és jelentése, ha nappal a sárga színű jelzőzászlót a test előtt körbeforgatják?



Mi az ábrán látható jelzés neve és jelentése, ha sötétben vagy a távolbalátás korlátozottsága esetén a fehér fényű jelzőlámpát függőleges irányban fel-le mozgatják?



Mi az ábrán látható jelzés neve és jelentése, ha sötétben vagy a távolbalátás korlátozottsága esetén a fehér fényű jelzőlámpát a test előtt körbeforgatják?



Mi a jelzőbot szerepe?

Hogyan kell Figyelj jelzést adni?

Hogyan kell Lassan jelzést adni?

Hogyan kell jelzősípval adni a Megállj jelzést?

Hogyan kell jelzősípval adni a Vészjelzést?

Hogyan kell jelzősípval adni az Indulás jelzést?

Mi a jelzés neve, és jelentése?



Mi a jelentése az ábrán látható kézi állítású, ellensúlyos váltóhoz tartozó váltójelző, illetve állítókészülék (súlykörte) jelzésének?



Hol helyezik el az ábrán látható jelzést?



## Forgalmi ismeretek (F.2)

Válassza ki a dohányzással kapcsolatos helyes (igaz) állítást!

Válassza ki a munkavállalók felelősségével kapcsolatos helyes (igaz) állítást!

Hogyan kell eljárni, ha a munkavállalót nem váltották le a szolgálati beosztásban előírt időben?

Válassza ki az utasítások kiadására, vonatkozó helyes állítást!

Milyen szabályok vonatkoznak az írásbeli rendelkezés érvényességére?

Aki nincs szolgálatban, vagy más szolgálati ághoz tartozik, az mikor végezhet munkát?

Válassza ki az alábbiak közül az eljárásrendet, ha váltó felvágását követően - a szerelvény lehaladt a felvágott váltóról!

Mikor végezhet járművezető helyszíni kézi váltóállítást olyan váltónál, amelynek állítását a váltó kezelésére beosztott munkavállaló (például tabulátorkezelő) végzi?

Állítástárolós kialakítású váltó esetén be szabad-e haladni a távvezérléssel történő váltóállítás helyére annak ellenére, hogy a váltójelző a váltó elektromos reteszelését jelzi, illetve a váltó előtt, illetve a váltón másik jármű tartózkodik?

Mit jelez a járművezető részére a szánszerkezet közelében elhelyezett, az állítástároló funkcióra figyelmeztető kiegészítő jelzővel megjelölt váltójelző?

Mikor haladhat rá az állítástárolós kialakítású váltó ráfutási szakaszára?

Mi a teendő abban az esetben, ha az állítástárolós kialakítású váltóhoz tartozó ráfutási szakasz jelzőtábla és a következő váltó csúcscsínje között a váltójelzőn a váltó reteszelését jelző visszajelentés próbaállítás hatására sem jelenik meg?

Válassza ki a főjelző Tilos a továbbhaladás jelzése melletti elhaladásra vonatkozó helyes (igaz) állítást!

Válassza ki a főjelző használhatatlansága esetén követendő eljárást!

Amennyiben a munkavezeték-szakadás helyén a leszakadt munkavezeték a földhöz, a jármű kocsiszekrényéhez vagy felsővezeték tartó oszlophoz ér, milyen feltétel esetén szabad a járművet a járművezetőnek és az utasoknak elhagyniuk?

Mi a teendője a szolgálat megkezdése előtt, ha szabadság után ismét szolgálatba áll?

Mi a teendője, ha betegség miatt a szolgálatot nem tudja megkezdni?

Köteles-e jelentkezni a szolgálat megkezdése előtt a munkát a helyszínen közvetlenül irányító személynél?

Mikor, hol és hogyan köteles a munkavállaló a szolgálat megkezdésekor megjelenni?

Mi a teendő, ha a munkavállalót az előírt időben nem váltják le?

Mi a teendő, ha a leváltó személy munkavégzésre alkalmas állapotával kapcsolatban kétely merül fel?

Mi a teendő, ha a munkavállaló az intézkedésre jogosult vezető utasítását magára nézve sérelmesnek tartja?

Mentesít-e a felettes jelenléte a szolgálattal járó felelősség alól?

Ki tartózkodhat a beosztott munkavállalón kívül a szolgálati helyen?

Mikor szabad a szolgálati helyet elhagyni a leváltást, illetve a szolgálat befejezését kivéve?

Hogyan kell az összetorlódott szerelvényeket elindítani, majd gyorsítani?

Mi az egyik teendője a járművezetőnek, ha a hibás munkavezeték alatt lehúzott áramszedővel, lendülettel kell áthaladni?

Mikor engedheti fel a járművezető ismét az áramszedőt, ha a hibás munkavezeték alatt lehúzott áramszedővel, lendülettel haladt át?

Mikor kell jelenteni a hálózati feszültség kimaradását?

Mekkora az engedélyezett legnagyobb sebesség trolibusz munkavezeték keresztezés alatt?

Mikor kell lassú jel munkavezetésekre vonatkozóan táblával megjelölni a trolibusz munkavezeték keresztezést?

Mikor kell végrehajtási utasításban szabályozni a trolibusz munkavezeték keresztezés alatti sebességet?

Mit nevezünk munkavezeték kereszteződésnek?

Hol kell megállnia a követő járműnek, ha az előtte lévő, állítástárolós kialakítású váltón jármű tartózkodik?

Új építésű pályaszakaszon próbajárat legfeljebb mekkora sebességgel haladhat a menetrend szerinti közúti vasúti forgalom megindulása előtt?

Válassza ki az alábbiak közül az eljárásrendet, ha váltó felvágását követően – a szerelvény lehaladt a felvágott váltóról!

Mikor haladhat rá az állítástárolós kialakítású váltó ráfutási szakaszára a jármű?

A főjelző időszakos érvénytelenítése esetén a motoros működésű váltókat...

Ki kezelheti a biztonsági betét és a zárszerkezetet a motoros váltóknál, a főjelző időszakos érvénytelenítése esetén?

Mikor kell érvénytelenítő jelzést elhelyezni a jelzőn?

A főjelző időszakos érvénytelenítése esetén a jelzőn feltüntetett időszakban milyen biztonsági intézkedést kell tenni?